



Owen is een auto aan het bouwen van technisch lego. In het totaal zijn er 110 blokjes. Op de tafel liggen nog 25 losse blokjes.

Hoeveel blokjes heeft Owen al gebruikt?



Anne heeft 34 knikkers in haar knikkerzak. Thuis verliest ze 17 knikkers tijdens een spelletje met Thyn.

Heeft Anne er nu meer, minder of evenveel als Thyn?



Bente wil later juf worden. Daarom moet ze nu al goed oefenen met de keersommen. Ze heeft al 84 keersommen gemaakt en had er 69 goed.

Hoeveel fouten heeft Bente gemaakt?



Tom gaat naar de winkel om een cadeautje te kopen voor zijn broer Julian. Tom heeft al 23 euro gespaard. Het cadeautje kost 7 euro.

Hoeveel euro heeft Tom nog over?





Tristan wil een stripboek kopen. Hij heeft al 63 cent in zijn spaarpot. Het stripboek kost 100 cent.

Hoeveel cent moet Tristan nog sparen?




Didier gaat met zijn moeder naar de winkel. Hij gaat een nieuwe zwembroek kopen. Hij kiest een hele mooie uit. Normaal kost de zwembroek 34 euro, maar nu is er een aanbieding. Er gaat 9 euro vanaf.

Wat kost de nieuwe zwembroek van Didier?



Riley heeft een zak met M&M's gevonden. Het is een speciale zak voor kerstmis, dus de M&M's zijn rood en groen. In de zak zitten 85 M&M's. Er zijn 42 rode M&M's.

Hoeveel groene M&M's zijn er?



Jasmijn gaat samen met Joris naar de film. De film duurt 90 minuten. Na 45 minuten is er een korte pauze.

Hoelang duurt de film nog na de pauze?





Tobias heeft kaartjes voor de wedstrijd van Ajax gewonnen. In het vak waar Tobias zit, kunnen 100 mensen zitten. Er zijn nog 13 plaatsen over.

Hoeveel mensen zijn er in het vak van Tobias?



Hielke gaat een ijsje kopen. Bij ijssalon Likkie hebben ze 54 smaken om uit te kiezen. Hielke lust ze niet allemaal. 15 samen vindt hij niks.

Hoeveel smaken ijs vindt Hielke wel lekker?



De vader van Lieke krijgt een bekeuring voor te hard rijden door de stad. De boete is €87,00. Gelukkig heeft de vader van Lieke genoeg geld bij zich: €95,00.

Hoeveel geld houdt de vader van Lieke over?



Bakkertje Jee heeft op maandag honderd olieballen gebakken voor oudjaarsavond. Een dag later zijn er al 73 verkocht.

Hoeveel olieballen heeft bakkertje Jee nog over?





De postbode heeft nog 78 brieven in zijn tas. In de straat van Saar stopt hij er 19 in de brievenbussen.

Hoeveel brieven heeft de postbode nog over?



Het was erg druk in zwembad 'De Spetter'. Er waren 98 gasten in het binnenbad. Nu is het vijf uur, het zwembad gaat bijna dicht. Er zijn nog 17 gasten in het water.

Hoeveel gasten zijn al naar huis gegaan?



Koen en Florent hebben 63 selfies gemaakt. Yara heeft er 37 gemaakt.

Hoeveel selfies hebben Koen en Florent er meer?



Lieve en Brent hebben hun huiswerk niet af.

Wie heeft er meer dan de helft gemaakt?



$56 - 26 =$



$83 - 56 =$



$65 - 28 =$



De drie monsters hebben een som bedacht.

Welke som heeft de hoogste uitkomst?



Han de houthakker hakt in het bos alle dode bomen om. Voor hij begon, stonden er 53 bomen. Na het hakken, zijn er nog maar 24 bomen over.

Hoeveel bomen heeft Han de houthakker omgehakt?



De boeven Bas en Billy hebben een snoepwinkel leeggeroofd. In de zak van Bas zitten 79 kauwgomballen. Alleen... er zit een gaatje in de zak. Onderweg is hij er 23 verloren.

Hoeveel kauwgomballen heeft boef Bas nog over?



Aa Bb Cc Dd Ee  
Ff Gg Hh Ii Jj  
Kk Ll Mm Nn  
Oo Pp Qq Rr Ss  
Tt Uu Vv Ww  
Xx Yy Zz

In de klas van Juf Inge zitten 27 kinderen. De juf heeft 30 dinostickers. Ze geeft alle kinderen die netjes geschreven, een sticker. Juf Inge houdt 4 stickers over.

Hoeveel kinderen kregen geen sticker?





In de tuin van Dianne heeft de paashaas 40 eieren verstopt. Dianne heeft er al 12 gevonden.

Hoeveel paaseieren moet Dianne nog zoeken?




Buurman Willem heeft 36 kilo zand besteld. Dat zand komt met de vrachtwagen. De weg is hobbelig, dus er valt veel zand af. Als het zand wordt uitgeladen, is er nog 29 kilo over.

Hoeveel zand is er van de vrachtwagen gevallen?



Hallo, ik heet Senna.

Hoi! Ik ben Lenn.



Senna zegt: "76 – 36 komt uit op een tiental."  
Lenn zegt: "De helft van 88 is 42."

Wie heeft er gelijk?



Nicola en Yassira gaan samen kleuren. Ze besluiten om de 24 kleurpotloden van Nicola eerlijk te verdelen. Nicola geeft er twaalf aan Yassira.


Heeft Nicola de potloden eerlijk verdeeld?






Popgroep 'De band' geeft een optreden in de stad. Ze zullen 27 liedjes spelen. Voor de pauze spelen ze er 11.

Hoeveel liedjes speelt de band nog na de pauze?




De drie monsters hebben een som bedacht.

Welke twee sommen hebben dezelfde uitkomst?



Er staat een wachtrij bij de achtbaan. 49 mensen om precies te zijn. Als het treintje terug is, kunnen er 24 nieuwe mensen instappen.

Hoeveel mensen staan er dan nog in de wachtrij?



In het treinstel van Nemo zitten 87 mensen. Als de trein stopt in Breda, stappen er 43 mensen uit. In Dordrecht stappen er 14 mensen uit. Er komt niemand meer bij.

Hoeveel mensen zitten er bij Nemo in het treinstel?





Kadir koopt een game in de winkel voor 63 euro. Hij betaalt met 7 briefjes van 10 euro.

Hoeveel geld krijgt Kadir terug?



Marwa heeft nieuwe kleren gekocht. Haar moeder moet 65 euro betalen. Ze heeft al 25 euro betaald.

Hoeveel briefjes van 10 moet ze nog geven?



Timon is de coolste DJ van het land. Op het feest in de stad draait hij vanavond 193 liedjes. Hij heeft al 58 plaatje gedraaid.

Hoeveel plaatjes met DJ Timon nog draaien?



Op maandag en dinsdag viel er bij elkaar maar liefst 45 milliliter water. Quint keek op maandag in de regenmeter en zag dat er toen 17 milliliter was gevallen.

Hoeveel milliliter is er dan op dinsdag nog gevallen?

